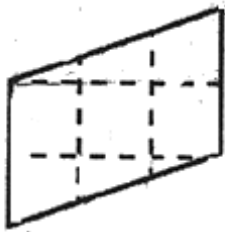
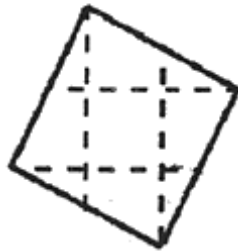


2 - DRÔLE D'AIRES

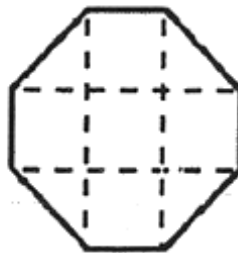
Ces quatre figures ont été dessinées sur du papier quadrillé.



A



B



C



D

Classez les aires de ces 4 figures de la plus petite à la plus grande.